

Young Lives

An International Study of Childhood Poverty


BẢNG HỎI HỌC SINH VIỆT NAM

MÔN TOÁN

Thời gian: 45 phút

(Không vẽ, viết hoặc nháp vào tờ đề)

6. Phân số chỉ phần đã tô đậm ở hình dưới đây là:



A. $\frac{3}{6}$

B. $\frac{1}{3}$

C. $\frac{6}{3}$

D. $\frac{3}{1}$

7. Chọn chữ số thích hợp để điền vào ô trống:

$859\boxed{}67 < 859167$

A. 9

B. 0

C. 1

D. 2

8. Chu vi của hình chữ nhật dưới đây là:



A. 18cm

B. 72cm

C. 36cm

D. 24 cm

9. Chọn số thích hợp để điền vào ô trống

$1, 3, \boxed{}, 27$

A. 9

B. 4

C. 5

D. 15

10. Theo đồng hồ này, em hãy cho biết còn bao lâu nữa thì đến 12 giờ rưỡi (12:30)?



- A. 1 tiếng 40 phút
- B. 1 tiếng 20 phút
- C. 2 tiếng 20 phút
- D. 2 tiếng 40 phút

11. Số “bảy triệu ba mươi sáu nghìn hai trăm linh năm” viết là:

- A. 7 036 205
- B. 73 625
- C. 7 360 205
- D. 736 205

12. Chọn số thích hợp để điền vào chỗ trống:

$$9.000.000\text{m}^2 = \dots\dots\dots\text{km}^2$$

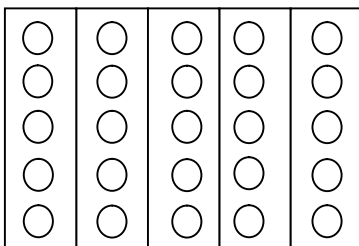
- A. 900
- B. 90
- C. 9
- D. 9.000

13. Quy tắc nào đúng để tìm số thứ hai từ số thứ nhất trong mỗi cặp số trên?

$$(3, 6); (6, 15); (8, 21)$$

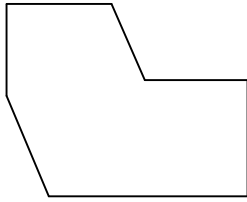
- A. Cộng 3
- B. Trừ 3
- C. Nhân 2, cộng 3
- D. Nhân 3, trừ 3

14. Có 25 chấm tròn được xếp thành các nhóm (xem hình vẽ). Phép tính đúng để tìm số chấm tròn trong mỗi nhóm là:



- A. $25 + 5$
- B. $25 - 5$
- C. $25 : 5$
- D. 25×5

15. Số góc vuông có trong hình dưới đây là:



A. 2

B. 3

C. 6

D. 7

16. Tìm giá trị của x trong biểu thức:

$$x + \frac{4}{5} = \frac{3}{2}$$

A. $\frac{1}{10}$

B. $\frac{6}{5}$

C. $\frac{7}{7}$

D. $\frac{7}{10}$

17. Điền lần lượt các số vào các ô trống để tạo ra các số chia hết cho 9:

$$31\square, \square35, 2\square5$$

A. 5; 1; 2

B. 2; 3; 4

C. 5; 1; 3

D. 4; 2; 2

18. Tính:

$$\frac{3}{5} - \frac{1}{3} = \dots\dots\dots$$

A. $\frac{2}{5}$

B. $\frac{2}{2}$

C. $\frac{2}{15}$

D. $\frac{4}{15}$

19. Tính:


$$\frac{4}{3} \times \frac{5}{4} \times \frac{7}{8} \times \frac{8}{10} \times \frac{9}{14} = \dots\dots\dots$$

- A. $\frac{3}{4}$ B. $\frac{33}{39}$
C. $\frac{10080}{13444}$ D. $\frac{4}{3}$

20. Phép chia (1154 : 62) có số dư là:

- A. 0 B. 61
C. 35 D. 38

21. Hình dưới đây có bao nhiêu hình vuông?



- A. 2 B. 10
B. 9 D. 8

22. Bạn Huy mua bốn quả bóng trả 16 000 đồng. Hỏi bạn Huy mua 7 quả bóng như thế sẽ phải trả bao nhiêu tiền?

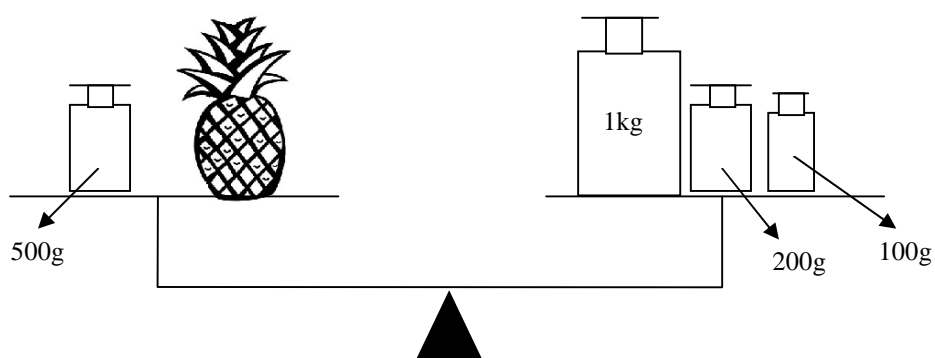
- A. 64 000 đồng B. 28 000 đồng
C. 112 000 đồng D. 32 000 đồng

23. Tính:

$$20 + 20 : 4 \times 5 = \dots\dots\dots$$

- A. 45 B. 50
C. 125 D. 21

24. Cân nặng của quả dưa là:

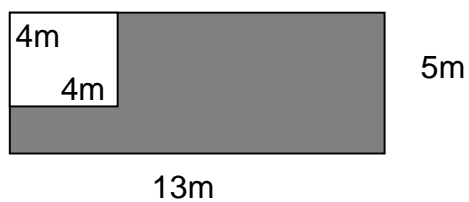


- A. 1 kg
B. 800 g
B. 1800 g
D. 1300 g

25. Nếu $k = 4$, $m = 6$ và $n = 24$, đáp án nào dưới đây là đúng nhất?

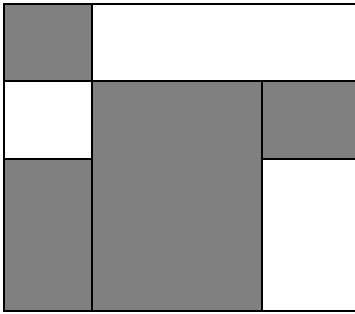
- A. $k = \frac{n}{m}$
B. $k = \frac{m}{n}$
C. $k = m \times n$
D. $k = n - m$

26. Diện tích phần tô đậm của hình dưới đây là:



- A. 65 m^2
B. 49 m^2
C. 59 m^2
D. 16 m^2

27. Phân số chỉ phần đã tô đậm ở hình dưới đây là:



A. $\frac{4}{3}$

B. $\frac{5}{8}$

C. $\frac{3}{4}$

D. $\frac{10}{13}$

28. Tổng của hai số nào dưới đây gần nhất với tổng của hai số:

$691 + 208$

A. $600 + 200$

B. $700 + 200$

C. $700 + 300$

D. $900 + 200$

29. Nếu $a + 2b = 5$ và $c = 3$, tính tổng của biểu thức

$a + 2(b + c) = \dots\dots\dots$

A. 14

B. 8

C. 12

D. 11

30. Nhung bán được 60 tờ báo và Hương bán được 80 tờ báo, với mức giá như nhau. Tổng số tiền hai bạn được nhận là 700 000 đồng. Hỏi bạn Hương bán được bao nhiêu tiền báo?

A. 300 000 đồng

C. 525 000 đồng

B. 420 000 đồng

D. 400 000 đồng